


Rastit

| | |
|--------------------------|-----------|
| Lähtö: Poliisikoira Pete | 5,0 p |
| 1. Etsivä Elvi | 5,0 p |
| 2. Roskakuski Roope | 7,0 p |
| 3. Heraldikko Harri | 5,0 p |
| 4. Metsämies Masa | 5,0 p |
| 5. Runoilija Riitta | 5,0 p |
| 6. Metsuri Mauri | 5,0 p |
| 7. Meripelastaja Mari | 5,0 p |
| 8. Koululainen Kaisa | 4,0 p |
| 9. Ensihoitaja Essi | 5,0 p |
| | |
| Käytös | 4,0 p |
| | yht. 55 p |



Rasti Lähtö: **POLIISIKOIRA PETE**


Maksimipisteet: 5 pistettä

Aika- ja taitotehtävä

Poliisikoiran kouluttaminen on pitkän työn tulos. Koira koulutetaan useampi vuosi ennen kuin se on täysin valmis haastavaan työhönsä.

Tehtävä: Kootkaa annettujen ohjeiden mukainen Poliisikoira Pete. Jokaisen pentueen jäsenen täytyy osallistua Peten tekemiseen. Koira tarvitsee myös pannan. Pentueen tulee nyörittää koiralla panta. Maksimiaika nikkaroinnille on 45 minuuttia

Arvostelu: Mallin mukaisuus, koiramaisuus, naulaus, pannan nyöritys



Lähtö: **POLIISIKOIRA PETE**


Maksimipisteet: 5 pistettä

Aika- ja taitotehtävä

Poliisikoiran kouluttaminen on pitkän työn tulos. Koira koulutetaan useampi vuosi ennen kuin se on täysin valmis haastavaan työhönsä.

Tehtävä: Kootkaa annettujen ohjeiden mukainen Poliisikoira Pete. Jokaisen pentueen jäsenen täytyy osallistua Peten tekemiseen. Koira tarvitsee myös pannan. Pentueen tulee nyörittää koiralla panta. Maksimiaika nikkaroinnille on 45 minuuttia

Arvostelu: Mallin mukaisuus, koiramaisuus, naulaus, pannan nyöritys



Rasti 1: **ETSIVÄ ELVI**


Maksimipisteet: 4 pistettä

Taitotehtävä

Etsivän tehtävä on olla tarkkaavainen ja pitää olla hyvä muisti. Etsivä voi ratkoa rikoksia johtolankojen perusteella. Eräs tihutyöntekijä on jättänyt johtolankoja pakoreitilleen. Auttaisitteko minua johtolankojen selvittämisessä ja kertoisitte minkä ikäinen tihutyön tekijä on?

Tehtävä: Pentue kulkee ilman muistiinpanovälineitä polun, jolle on ripoteltuna johtolankoja. Pentue ei saa keskustella polulla, vaan he kulkevat hiljaa polkua tarkkaillen ja palaavat sitten vastausalueelle. Vastausalueella pentue kirjaa ylös muistamansa johtolangat ja tihutyöntekijän iän. Vastauspaperi palautetaan rastimiehelle.

Arvostelu: Jokaisesta oikein tiedetystä johtolangasta 0,5 pistettä.
Oikein päätelty ikä 0,5 pistettä.
Radan kulkemisesta hiljaa 1 piste.



Rasti 2: **ROSKAKUSKI ROOPE**

Maksimipisteet: 7 pistettä

Taito- ja tietotehtävä

Roskakuski Roopen tehtävänä on kuljettaa kodin jätteet jatkokäsittelyyn. Roopen tehtävä on kuitenkin vaikea, sillä monissa paikoissa roskat eivät olekaan oikeissa astioissa, vaan lojuvat heiteltynä joka puolelle luontoa... Osaisivatko sudenpennut auttaa roskakuski Roopea saamaan roskat niille kuuluvaan paikkaan, roska-astiaan?

Roskakuski Roope on myös huolissaan suuresta roskamäärästä ja miettiikin, miten roskien määrää voisi vähentää, auttaisitteko Roopea vastaamaan häntä askarruttaviin kysymyksiin roskien kierrätyksestä ja hyötykäytöstä?

Tehtävä: Pentueen tehtävänä on yrittää tennispallolla heittämällä tiputtaa roskalaatikon päällä laudanpätkällä olevat 6 peltipurkkia (pyramidin muodossa) roska-astiaan 4 metrin etäisyydeltä. Tehtävässä pentueen jäsenet heittävät kukin vuorollaan 2 kertaa peltipurkkikasaa

Kun pentue on auttanut Roopea saamaan roskat astiaan, vastaa pentue rastimiehen kysymyksiin.

Arvostelu:

Taitotehtävä:

1 piste: Heittäjän kaikki 6 peltipurkkia putoavat roskalaatikkoon


0.5 pistettä: Heittäjän 5 peltipurkkia putoaa roskalaatikkoon

Max 5 pistettä

Tietotehtävä:

Jokaisesta oikeasta vastauksesta joukkue saa 0,25 pistettä

Max 2 pistettä



Tehtäväkortti nro 2

Roskakuski Roope

Pentueen numero _____ Pentueen nimi _____

1. Miksi jätteet lajitellaan?
 - a. Koska äiti pakottaa
 - b. Koska jäte on raaka-ainetta
 - c. Koska se on kivaa
 - d. Koska kaikkiin roskalaatikoihin on hyvä saada täytettä

2. Polkupyörästä puhkeaa rengas. Mitä tehdään?
 - a) ostetaan uusi polkupyörä
 - b) paikataan rengas
 - c) kävellään
 - d) viedään pyörä metallinkeräykseen

3. Matkapuhelimen akku tyhjenee. Mitä yleensä tehdään?
 - a) ostetaan uusi puhelin
 - b) ostetaan uusi akku
 - c) viedään puhelin kauppaan
 - d) ladataan akku


4. Lasipurkki laitetaan jätteenä
 - a) biojätteeseen, koska lasi pitää lajitella
 - b) paperinkeräykseen, koska lasipurkissa on paperietiketti
 - c) lasinkeräykseen, koska lasipurkki on lasia
 - d) metallinkeräykseen, koska lasipurkissa on metallinen kansi

5. Banaaninkuori laitetaan
 - a) maahan
 - b) biojätteeseen
 - c) taskuun
 - d) maton alle

6. Tyhjät maitotölkit viedään
 - a) palautusautomaattiin
 - b) jääkaappiin
 - c) kartonginkeräykseen
 - d) tiskipöydälle

7. Tyhjät metalliset säilyketölkit
 - a) laitetaan metallinkeräykseen
 - b) viedään sängyn alle piiloon
 - c) annetaan isälle joululahjaksi
 - d) kerätään olohuoneen nurkkaan

8. Vanha sanomalehti viedään
 - a) panttilainaamoon
 - b) sekajäteastiaan
 - c) paperinkeräykseen
 - d) postiin



Vastaukset:

1. Miksi jätteet lajitellaan?
 - a. Koska äiti pakottaa
 - b. Koska jäte on raaka-ainetta
 - c. Koska se on kivaa
 - d. Koska kaikkiin roskalaatikoihin on hyvä saada täytettä

2. Polkupyörästä puhkeaa rengas. Mitä tehdään?
 - a) ostetaan uusi polkupyörä
 - b) paikataan rengas
 - c) kävellään
 - d) viedään pyörä metallinkeräykseen

3. Matkapuhelimen akku tyhjenee. Mitä yleensä tehdään?
 - a) ostetaan uusi puhelin
 - b) ostetaan uusi akku
 - c) viedään puhelin kauppaan
 - d) ladataan akku


4. Lasipurkki laitetaan jätteenä
 - a) biojätteeseen, koska lasi pitää lajitella
 - b) paperinkeräykseen, koska lasipurkissa on paperietiketti
 - c) lasinkeräykseen, koska lasipurkki on lasia
 - d) metallinkeräykseen, koska lasipurkissa on metallinen kansi

5. Banaaninkuori laitetaan
 - a) maahan
 - b) biojätteeseen
 - c) taskuun
 - d) maton alle

6. Tyhjät maitotölkit viedään
 - a) palautusautomaattiin
 - b) jääkaappiin
 - c) kartonginkeräykseen
 - d) tiskipöydälle

7. Tyhjät metalliset säilyketölkit
 - a) laitetaan metallinkeräykseen
 - b) viedään sängyn alle piiloon
 - c) annetaan isälle joululahjaksi
 - d) kerätään olohuoneen nurkkaan

8. Vanha sanomalehti viedään
 - a) panttilainaamoon
 - b) sekajäteastiaan
 - c) paperinkeräykseen
 - d) postiin



Rasti 3: **METSÄMIES MASA**


Maksimipisteet: 5 pistettä

Taitotehtävä

Metsämies Masalla on kiikarissaan aika monta erilaista metsäneläintä. Ongelma on, ettei vanha metsämies enää tunnista mitä eläimiä metsässä juoksentelee. Pystyisitkö sinä kertomaan Metsämies Masalle mitä eläimiä sinä näet?

Tehtävä: Merkitkää tehtäväkortille oikea numero eläimen nimen kohdalle.
Käyttäkää katselussa apuna kiikaria.
Aikaa on 10 minuuttia.

Arvostelu: Oikea eläin 0,5 pistettä.




Tehtäväkortti nro 3

METSÄMIES MASA

Pentueen numero _____ Pentueen nimi _____

| | | | |
|----------|-------|-------|-------|
| HUUHKAJA | _____ | ORAVA | _____ |
| ILVES | _____ | NÄÄTÄ | _____ |
| KETTU | _____ | SORSA | _____ |
| KÄRPPÄ | _____ | UIKKU | _____ |
| LUMIKKO | _____ | VARIS | _____ |




Tehtäväkortti nro 3

METSÄMIES MASA

Pentueen numero _____ Pentueen nimi _____

| | | | |
|----------|-------|-------|-------|
| HUUHKAJA | _____ | ORAVA | _____ |
| ILVES | _____ | NÄÄTÄ | _____ |
| KETTU | _____ | SORSA | _____ |
| KÄRPPÄ | _____ | UIKKU | _____ |
| LUMIKKO | _____ | VARIS | _____ |



Rasti 4: **Heraldikko Harri**

Maksimipisteet: 5 pistettä


Aika- ja taitotehtävä

Harri laittaa kätensä taskuun ja löytää sieltä merkkejä, joita he saivat edellisellä kerralla. Tero muisti merkit, jotka ovat jääneet häneltä ompelematta partiopaitaan.

Tehtävä: Aikaa on 10 minuuttia. Aika alkaa rasian saadessanne. Kun olette valmiit, rastihenkilö antaa teille rasian, jossa on 20 partiomerkkiä sekä kiinnitysvälineet. Merkeistä kahtatoista voidaan käyttää nykyisin sudenpentujen virallisessa partioasussa. Valitkaa 10 merkkiä rasiasta ja kiinnittäkää ne mahdollisimman siististi sudenpentupaitaan niille kuuluville paikoille. Kun olette valmiita, antakaa ylimääräiset merkit ja kiinnitysvälineet rasiassa takaisin rastihenkilölle. Tarvittaessa rastimies keskeyttää suorituksen ajan päättyessä.

Arvostelu: Oikea merkki oikeassa paikassa 0,5p.
Oikea merkki väärässä paikassa 0,25p.
Väärä merkki -0,25p.

Arjen Sankarit 2012
Sudenpentukisat



Rasti 5: **Runoilija Riitta**

Maksimipisteet: 5 pistettä

Aika- ja taitotehtävä

Runoraati on jo kuunnellut kaikki löytämänsä runot. Keksikää uusi runo arjen sankarista.


Tehtävä: Kirjoitkaa tehtäväkortille runo, jonka aiheena on opettaja tai poliisi tai keittäjä tai autonkuljettaja, jossa on 10 – 15 sanaa ja loppusointuja. Aikaa on noin 15 minuuttia.

Arvostelu: Arvostellaan sanojen määrä, loppusoinnut ja yleisvaikutelma.

Tehtäväkortti nro **5** RUNOILIJA RIITTA

Pentueen numero _____ Pentueen nimi _____

Runo:



Rasti 6: **Metsuri Mauri**


Maksimipisteet 5 pistettä

Taitotehtävä

Tervetuloa Metsuri Masa rastille. Tällä rastilla jokainen pentueen jäsen tekee itselleen kisamerkin muistoksi tästä kilpailusta.

Tehtävä: Jokainen pentueen jäsen sahaa suoritusasteessa olevasta puusta itselleen 2 cm paksuisen puukiekon. Rastilla on esimerkki kiekko, jota pentue saa käyttää mallina ja apuna kiekkojen sahaamisessa. Pentueen jäsenet sahaavat yksi kerrallaan. Kun yksi pentueen jäsen sahaa, muut avustavat sahaajaa esimerkiksi pitämällä sahattavasta puusta kiinni. Yhteistyö on erittäin tärkeää. Rastihenkilö opastaa pentuetta sahapukin käyttämisessä. Aikaa tehtävän suorittamiseen on 15min. Aika alkaa rastihenkilön merkistä.

| | |
|---|-----------------------------|
| Arvostelu: Puukiekkojen mittojen mukaisuus | 3 pistettä |
| Suoritus aika | - 1 piste/ 5min ajan ylitys |
| Pentueen yhteistyö | 2 pistettä |



Rasti 7: **Mari Meripelastaja**

Maksimipisteet 5 pistettä


Taitotehtävä

Meripelastaja Marin tehtävänä on auttaa vesillä tapahtuneissa onnettomuuksissa ja pitää huolta vesilläliikkujien turvallisuudesta. Osaatteko auttaa minua pelastusköyden heitossa? Entäpä tiedättekö vesilläliikkujien turvallisuusohjeista?

Tehtävä: Pentueen tehtävänä on heittää vuorollaan pelastusköyttä (yhteensä 10 kertaa) ja osua sillä maahan merkittyyn ympyrään.

Heittojen jälkeen pentue vastaa rastimiehen esittämiin kysymyksiin (8 kpl).

Arvostelu: Köyden osuminen ympyrän sisälle 0,25 p
Oikea vastaus kysymykseen 0,25 p



MERIPELASTAJA tehtävän väittämät


Arvostelu 0,25 pistettä/oikea vastaus

| Väittämä | Oikein | Väärin |
|--|--------|--------|
| 1. Uimaan ei saa koskaan mennä yksin. | | |
| 2. Veneillessä ei tarvitse käyttää pelastusliivejä. | | |
| 3. Järvien jäät ovat heikkoja erityisesti syksyllä ja keväällä, jolloin niille menemistä on vältettävä. | | |
| 4. Järven pohja on tutkittava ennen kuin sukeltaa pää edellä veteen. | | |
| 5. Kannattaa aina uida rannasta poispäin, sen sijaan, että uisi rannan suuntaisesti. | | |
| 6. Veneessä ei tarvitse olla mukana äyskäriä. | | |
| 7. Heikkoja kohtia jäissä ovat virtapaikat ja jokien suut. | | |
| 8. Jäänaskalit ovat turhat liikuttaessa kantavalla jäällä. | | |
| 9. Heikkoihin jäihin pudonnutta pelastettaessa on hyvä käyttää apuna köyttä tai jotain muuta kättä pidempää. | | |
| 10. Uimaan tai jäälle mennessä on pidettävä huolta, että kotona tiedetään, minne olet mennyt. | | |

Pisteet: ____ / 2,5 pistettä

Oikeat vastaukset:

1. oikein
2. väärin
3. oikein
4. oikein
5. väärin
6. väärin
7. oikein
8. väärin
9. oikein
10. oikein



Rasti 8: **KOULULAINEN KAISA**



Maksimipisteet: 4 pistettä

Taitotehtävä

Risteykseen saapuessaan Kaisa ihmettelee, kun vastaantuleva jalankulkija kävelee väärällä puolella tietä. Muistatko sinä, kummalla puolella tietä tulee kulkea?

Tehtävä: Pentueen tehtävänä on vastata liikenteeseen liittyviin kysymyksiin.

Arvostelu: Oikea vastaus 0,5 p.




Kysymys 1

Ryhmänne kävelee kevyen liikenteen väylällä. Kumpaa reunaa pitkin voitte jatkaa matkaa?

Kysymys 2

Teitä vastaan tulee pyöräilijä, joka ei tiedä kumpaa tienreunaa hänen olisi jatkettava. Neuvokaa pyöräilijälle oikea tienreuna valitsemalla A tai B.




Kysymys 3

Ryhmänne tehtävänä on jatkaa matkaa eteenpäin kävellen, mutta teidän on valittava kevyen liikenteen väylästä oikea vaihtoehto (A, B, C tai D) jonka mukaan jatkatte matkaa eteenpäin.

Kysymys 4

Tapaatte henkilön, joka on matkalla polkupyörällä samaan suuntaan kuin tekin. Hän pysähtyy ja kysyy teiltä ”Missä kohtaa minun on kuljettava kevyen liikenteen väylällä?”





Kysymys 5

Ryhmänne kulkee kävellen maantietä pitkin. Kumpaa reunaa pitkin teidän on jatkettava matkaa eteenpäin?

Kysymys 6

Tapaatte pyöräilijän, joka on menossa samaan suuntaan kuin tekin. Hänen olisi tarkoitus ajaa polkupyörällä maantietä pitkin kotiin.
Hän kysyy teiltä ”Kumpaa reunaa pitkin minun on jatkettava matkaa eteenpäin?”



Kysymys 7


Teidän on tarkoitus jatkaa matkaa kävellen. Kumpaa reunaa pitkin voitte edetä moottoritietä pitkin?

A. Vasen reuna B. Oikea reuna C. Ei ollenkaan

Kysymys 8

Teidän on tarkoitus jatkaa matkaa polkupyörällä. Kumpaa reunaa pitkin voitte edetä moottoritietä pitkin?

A. Vasen reuna B. Oikea reuna C. Ei ollenkaan



Tämä sisältää Koululainen Kaisa –rastin oikeat vastaukset selityksineen.

Tavoitteena on käydä vastaukset läpi heti suorituksen jälkeen.

KYSYMYS 1

Oikea vastaus: A tai B eli molemmat käy.

Kyseessä on yhdistetty väylä jolla jalankulkeminen tapahtuu jommassakummassa reunassa. Pyöräilijöiden paikka on väylän oikeassa reunassa.

KYSYMYS 2

Oikea vastaus: B.

Yhdistetyllä väylällä jalankulkija kulkee oikeassa tai vasemmassa reunassa. Pyöräilijä ajaa oikeassa reunassa.

KYSYMYS 3

Oikea vastaus: D eli oikea reuna

Rinnakkaisella väylällä jalankulkijoiden ja pyöräilijöiden väylät on erotettu toisistaan.

Jalankävely tapahtuu kävelytien oikeaa reunaa pitkin.

KYSYMYS 4

Oikea vastaus: D, koska rullaluistelijoita koskee samat säännöt kuin jalankulkijoita.

KYSYMYS 5

Oikea vastaus: A eli vasen reuna kisaryhmästä nähden.

Maantiellä jalankulkijan on turvallisinta kulkea vasemmassa reunassa, samaa puolta vastaantulevien kanssa. Silloin näkee vastaan tulevan auton.

KYSYMYS 6

Oikea vastaus: B eli oikea reuna kisaryhmästä nähden.

Polkupyörä on ajoneuvo. Polkupyörällä ajetaan maanteillä samaa puolta ja samaan suuntaan kuin autolla.

KYSYMYS 7


Oikea vastaus: C eli ei ollenkaan.

Moottoriteillä jalankulku on kielletty. Moottoriteillä ei ole turvallista kävellä eikä ajaa polkupyörällä.

KYSYMYS 8

Oikea vastaus: C eli ei ollenkaan.

Moottoriteillä polkupyörällä ajo on kielletty. Moottoriteillä ei ole turvallista kävellä eikä ajaa polkupyörällä.



Rasti 9: **Ensihoitaja Essi**

Maksimipisteet: 5 pistettä


Taitotehtävä

Kentällä on koululaisia pelaamassa jalkapalloa. Pallo oli lentänyt suoraan maalivahdin naamaan. Niin kovaa, että maalivahdilta alkoi vuotaa verta nenästään. Lisäksi maalivahtia katsomaan tullut hyökkääjä pyörtyi nähdessään verta.

Tehtävä: Pentueen tehtävänä on antaa oikeaa ensiapua maalivahdille ja hyökkääjälle. Pentue ilmoittaa rastimiehelle kun ovat valmiita.

Arvostelu: Oikea toiminta tilanteessa 4 p
Pentueen tehtävien jako ja yhteistyö 1p

Arjen Sankarit 2012
Sudenpentukisat



Rasti Käytös: **Käyttäytyjä Kalle**

Maksimipisteet: 4 pistettä

Taitotehtävä

Monissa ammateissa on tärkeätä hyvä käytös, kohtelias ja ystävällinen suhtautuminen toisiin ihmisiin.

Tehtävä: Pentueen tehtävänä on käyttäytyä hyvin. Pentueen täytyy pyytää jokaisen rastin rastimieheltä tarra käyttäytyjä Kalle tehtäväkorttiin. Tarran saa, jos on käyttäytynyt hyvin. Tarran saa ainoastaan pyytämällä, joten muistakaa pyytää tarra. Tehtäväkortti palautetaan maaliin.

Arvostelu: Tarrojen määrä

Arjen Sankarit 2012
Sudenpentukisat



Rasti Käytös: **Käyttäytyjä Kalle**


Maksimipisteet: 4 pistettä

Taitotehtävä

Monissa ammateissa on tärkeätä hyvä käytös, kohtelias ja ystävällinen suhtautuminen toisiin ihmisiin.

Tehtävä: Pentueen tehtävänä on käyttäytyä hyvin. Pentueen täytyy pyytää jokaisen rastin rastimieheltä tarra käyttäytyjä Kalle tehtäväkorttiin. Tarran saa, jos on käyttäytynyt hyvin. Tarran saa ainoastaan pyytämällä, joten muistakaa pyytää tarra. Tehtäväkortti palautetaan maaliin.

Arvostelu: Tarrojen määrä



Rasti Matkatehtävä: **Sankarit**

Maksimipisteet: 0 pistettä

Taitotehtävä

Tehtävä: Matkan aikana voitte halutessanne täyttää lauluun puuttuvat sanat. Tehtävä on ajanvietettä.

Keitä ne on ne _____
sellaiset sankarimiehet
joita koko valtakunta arvostaa?
Keitä ne on ne sankarit
sellaiset sankarinaiset
jotka _____ työstä palkintonsa saa?


Me ollaan sankareita kaikki
kun _____ silmiin katsotaan
me ollaan sankareita elämän
ihan jokainen (2x)

Keitä ne _____ ne sankarit
sellaiset sankarinaiset
jotka tosipaikan tullen pelkäävät?
Keitä ne on ne sankarit
sellaiset sankarimiehet
jotka _____ kadunkulmalla kerjäävät?

Me ollaan sankareita kaikki
kun oikein silmiin katsotaan
me ollaan sankareita _____
ihan jokainen

Keitä ne on ne sankarit
_____ sankarinaiset
jotka kauneudellaan kaikki lumoaa?
Keitä ne on ne sankarit
elokuvan sankarimiehet
jotka heikompiensa tieltään kumoaa?

Me ollaan sankareita _____
kun oikein silmiin katsotaan
me ollaan sankareita elämän
ihan jokainen



Matkatehtävä **Sankarit** oikea vastaus:

Keitä ne on ne sankarit
sellaiset sankarimiehet
joita koko valtakunta arvostaa?
Keitä ne on ne sankarit
sellaiset sankarinaiset
jotka tosi työstä palkintonsa saa?

Me ollaan sankareita kaikki
kun oikein silmiin katsotaan
me ollaan sankareita elämän
ihan jokainen (2x)

Keitä ne on ne sankarit
sellaiset sankarinaiset
jotka tosipaikan tullen pelkäävät?
Keitä ne on ne sankarit
sellaiset sankarimiehet
jotka rahaa kadunkulmalla kerjäävät?

Me ollaan sankareita kaikki
kun oikein silmiin katsotaan
me ollaan sankareita elämän
ihan jokainen

Keitä ne on ne sankarit
elokuvan sankarinaiset
jotka kauneudellaan kaikki lumooa?
Keitä ne on ne sankarit
elokuvan sankarimiehet
jotka heikompiensa tieltään kumoaa?

Me ollaan sankareita kaikki
kun oikein silmiin katsotaan
me ollaan sankareita elämän
ihan jokainen